



NOME:		
DATA:	TRABALHO ON LINE 1º TRIMESTRE	
TURMA:	DISCIPLINA: GEOGRAFIA	
PROFESSOR (A): Francyanne Dias	NOTA:	

Querido aluno (a)

Passamos por um momento delicado e o estudo deve ser diário e devemos estar atentos a cada instante para podermos aprender cada vez mais.

Você poderá realizar a impressão deste material e respondê-lo de forma manuscrita. Ao final você poderá fotografar ou escanear e enviar por e-mail. Caso faça a resolução digital, salve o mesmo, para que, após o termino possa encaminhar para correção.

Meu e-mail é francyannedg@gmail.com

Qualquer duvida estou a disposição.


Att, Profª Fran

Capitulo 03 - O ESPAÇO E SUAS REPRESENTAÇÕES

A **rosa dos ventos** é um desenho que aparece no mostrador de bússolas, em mapas, plantas, maquetes, etc. A utilização de rosas dos ventos é extremamente comum em todos os sistemas de navegação antigos e atuais. Seu desenho em forma de estrela tem a finalidade única de facilitar a visualização com o balanço da embarcação. Surgiu da necessidade de indicar exatamente um sentido que nem mesmo os pontos intermediários determinariam, pois um mínimo desvio inicial torna-se cada vez maior, à medida que vai aumentando a distância. Por meio da **rosa dos ventos**, situamos o espaço representado em relação à Terra e a outros espaços dela.

Atividade 01 -

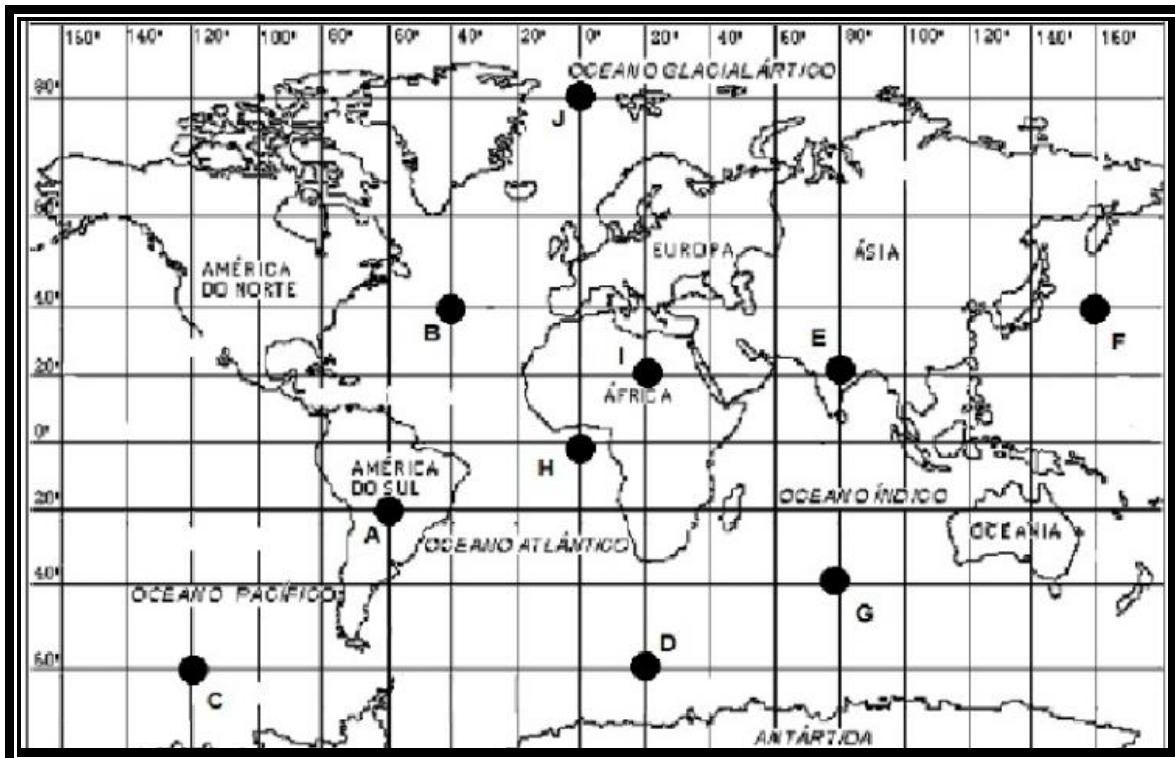
Complete a rosa dos ventos identificando os pontos cardeais e colaterais.



Atividade 02 -

Pesquise sobre a diferença entre Paralelos e Meridianos, se for necessário faça desenhos, ou use a régua para ajudar a exemplificar.

Atividade 03 Utilizando o mapa abaixo, faça as análises e complete as lacunas abaixo:



- O ponto A encontra-se no continente _____.
- O ponto B encontra-se no oceano _____.
- O ponto C encontra-se no hemisfério norte ou sul? _____.
- O ponto D encontra-se no hemisfério oriental ou ocidental? _____.
- O ponto E encontra-se no continente _____.
- O ponto F encontra-se no hemisfério norte ou sul? _____.
- O ponto G encontra-se no oceano _____.
- O ponto H encontra-se na linha do Equador ou no Trópico de Capricórnio? _____.
- O ponto I encontra-se no oceano no hemisfério leste ou oeste? _____.
- O ponto J encontra-se na Linha Internacional da Data ou no Meridiano de Greenwich? _____.

Atividade 04

O Brasil se destaca no cenário mundial devido a sua extensão e também por suas várias riquezas. Sobre a localização do Brasil nas representações gráficas da Terra, assinale o que for correto.

- O Brasil não é cortado por nenhuma das duas principais linhas imaginárias da Terra: o Meridiano de Greenwich e a Linha do Equador.
- O Brasil se encontra em apenas um hemisfério: o Sul.
- O Brasil está localizado em dois hemisférios diferentes, a maior parte no hemisfério norte e uma pequena parte no hemisfério sul.
- O Brasil está localizado em três hemisférios diferentes.

Atividade 05 - Quais são os elementos primordiais para a correta leitura dos mapas?

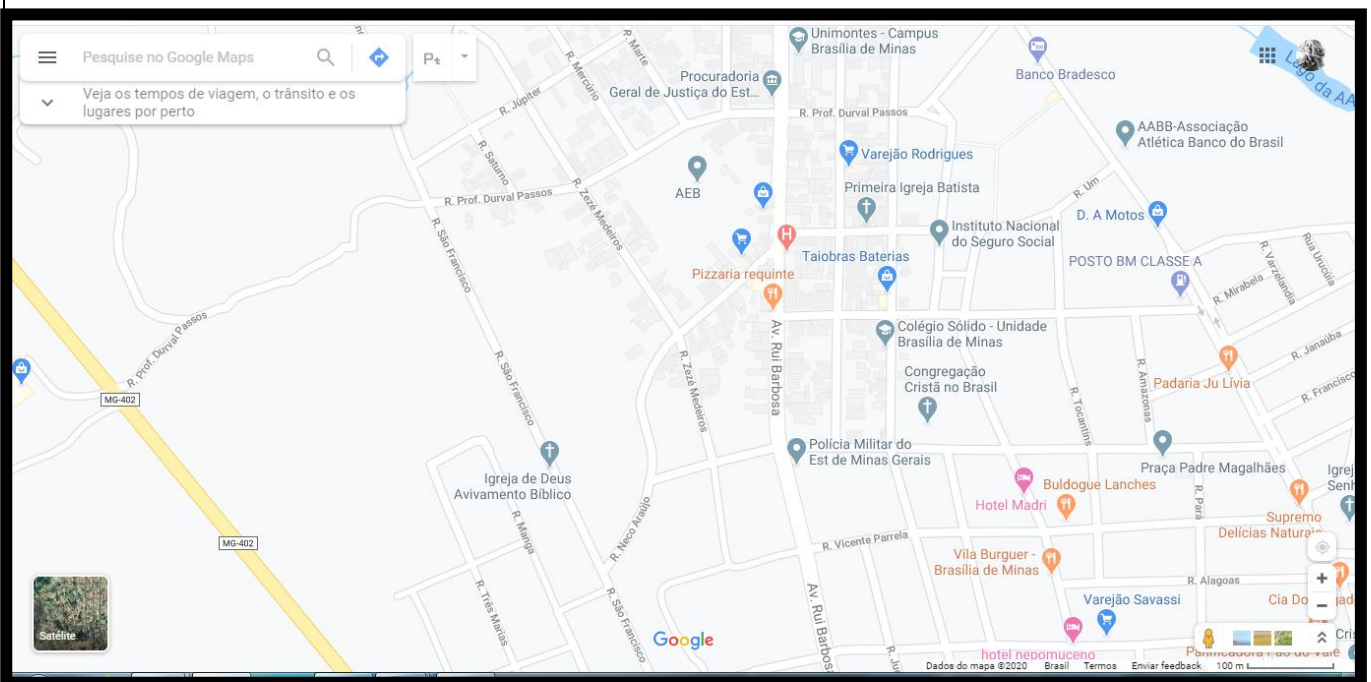
Atividade 06 – Observe o Mapa a baixo.

Perceba q localização representada

Que cidade é?

Escolha um ponto de referencia (local principal) e a partir dele direcione locais que estejam próximos, e indique com setas diferentes os locais, respeitando os pontos cardeais.

Site pelo menos 6 locais próximos e fale de sua localização.



Grande abraço turma!

Nos vemos em breve!