



<b>NOME:</b>		
<b>DATA:</b> / /2022	Trabalho de recuperação – 1º trimestre	
<b>TURMA:</b> 9º ano	<b>TURNO:</b>	
<b>PROFESSOR (A):</b> Luiz Guilherme	<b>NOTA:</b>	
<b>ASSINATURA DOS PAIS E/ OU RESPONSÁVEIS:</b>		

1) Caracterize os sistemas agrários desenvolvidos nos países subdesenvolvidos:

a) Subsistência:

---



---

b) Plantation:

---



---

2) O que foi a Revolução Verde?

---

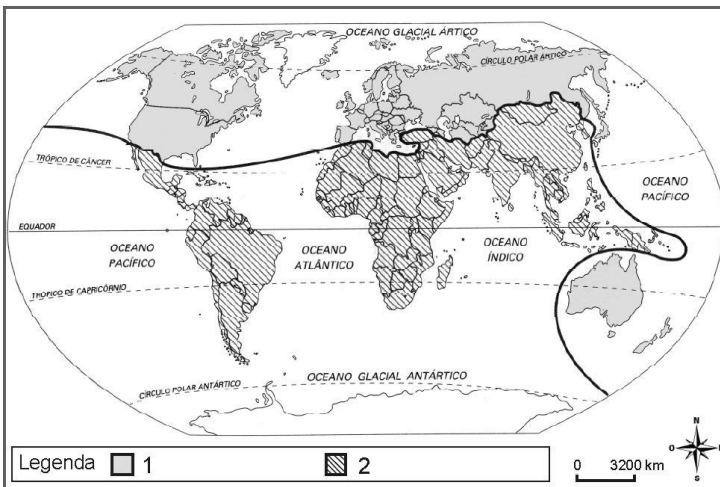


---



---

3) Observe o mapa abaixo:



a) Preencha a legenda do mapa.

1=

2=

4) Caracterize a divisão descrita no mapa.

---



---



---

5) Explique o que são países Emergentes.

---



---

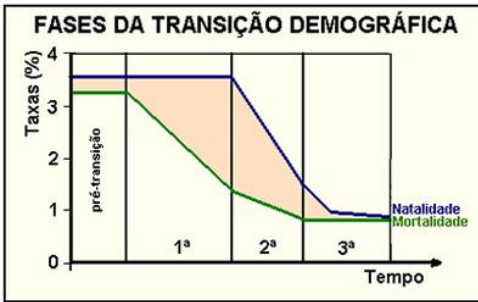


---

6) Cite os indicadores avaliados pelo IDH.

7) Explique a expressão: *Hipertrofia do Setor Terciário*.

8) Observe o gráfico abaixo:



Cite as principais causas da queda da mortalidade nos países subdesenvolvidos.

9) Explique o que foi a Política de substituição de importações.

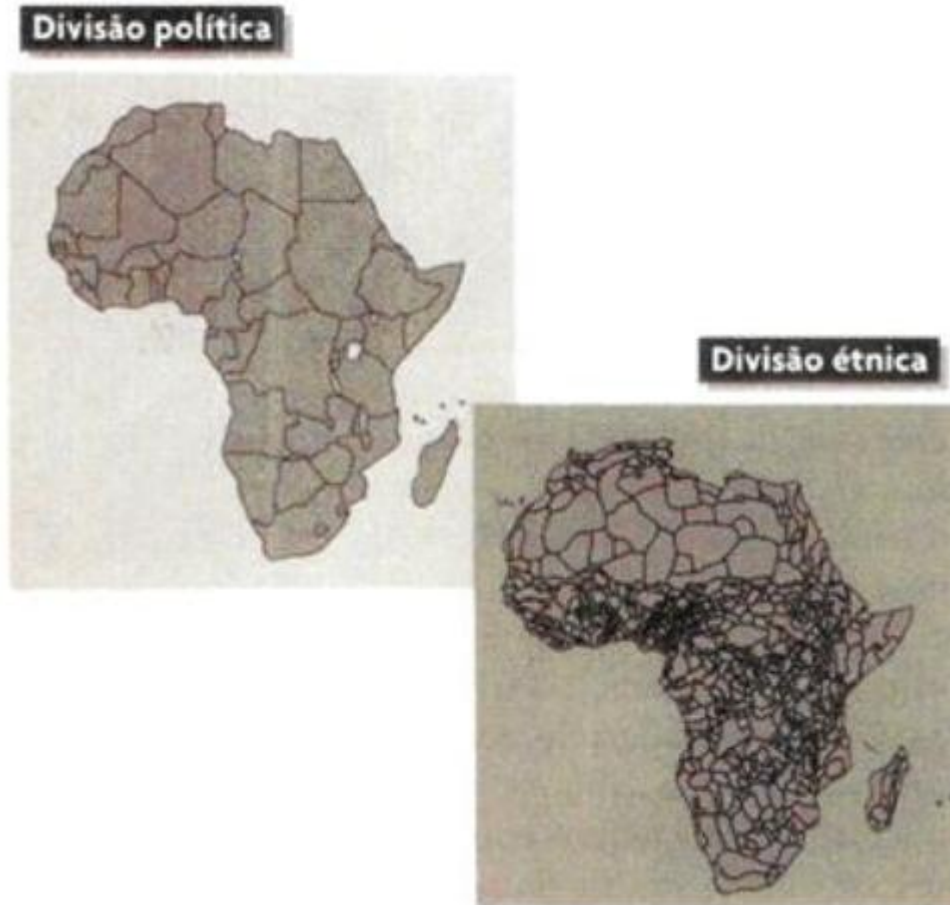
10) Caracterize cada tipo de clima existente no continente africano.

11) Explique por que no deserto do Saara existe uma grande amplitude térmica (diferença entre a temperatura muito alta do dia e a temperatura muito baixa da noite).

12) Observe o mapa de vegetação da África e em seguida caracterize cada uma das paisagens vegetais. Identifique quais os dois principais rios da África.

13) Localize e caracterize a região africana conhecida como Sahel.

14) Os mapas a seguir apresentam diferenças nas fronteiras políticas e étnicas da África.  
Aponte e comente uma consequência dessas diferenças.



15) Sobre o continente africano, é falso afirmar que :

- a) na maioria dos países da África subsaariana, a pobreza é uma herança do colonialismo.
- b) as crises agudas de fome que vêm atingindo países africanos nas últimas décadas coincidiram com circunstâncias climáticas (secas prolongadas) ou políticas adversas (guerras civis ou conflitos separatistas), ou com uma combinação das duas.
- c) a difusão descontrolada da AIDS (pessoas portadoras do vírus do HIV) na África, funciona como uma bomba social: destrói os núcleos familiares que desempenham funções vitais na reprodução das sociedades.
- d) as receitas decrescentes das exportações e as necessidades de importações cada vez maiores, geram

desequilíbrios profundos na balança comercial das nações africanas.

e) o endividamento externo diminuiu em todo o continente africano.

16) Sobre os países subdesenvolvidos, assinale a alternativa que não representa uma característica desses países:

- a) Baixo nível de industrialização
- b) Taxas de natalidade e de mortalidade reduzidas
- c) Baixa qualidade e expectativa de vida
- d) Dependência econômica

17) A respeito das características dos países subdesenvolvidos, analise as proposições abaixo:

I. Os países subdesenvolvidos apresentam baixo desenvolvimento econômico e industrial.

II. Os países subdesenvolvidos apresentam IDH próximo de 1, indicando fragilidade social.

III. São exemplos de países subdesenvolvidos: Níger, Moçambique, Afeganistão

São verdadeiras:

- a) I e II
- b) I
- c) I e III
- d) I, II e III

18) A respeito do “subdesenvolvimento” é correto afirmar que:

- a) o subdesenvolvimento é uma situação socioeconômica caracterizada por dependência econômica e grandes desigualdades sociais.
- b) antes de serem países desenvolvidos, Inglaterra, França, Bélgica e Alemanha passaram pelo subdesenvolvimento.
- c) neste final de século, a principal contradição da ordem mundial é o conflito Leste × Oeste, isto é, entre os países ricos e os países pobres.
- d) as disparidades socioeconômicas entre os países surgem com as grandes navegações (séculos XV e XVI), daí se formando os países subdesenvolvidos.

19) Analise as informações abaixo:

I. Predomínio do setor primário nas atividades produtivas;

II. Industrialização realizada por empresas estrangeiras;

III. Balança comercial constantemente favorável;

IV. Dependência tanto econômica quanto tecnológica.

Dentre as afirmações acima, podemos considerar como característica dos países subdesenvolvidos:

- a) Apenas a afirmativa I
- b) Apenas as afirmativas I e II
- c) Apenas as afirmativas III e IV
- d) Apenas as afirmativas I, II e IV
- e) Todas as afirmativas.

20) O processo de modernização agrícola, iniciado ainda no final do século XIX, com os avanços da energia a vapor, da mecânica, da genética vegetal, dos descobrimentos da química agrícola, tem continuidade, em âmbito mundial, nos setores agrários capitalizados. Esta Segunda Revolução Agrícola, apoiada por um conjunto de incentivos de políticas agrárias nos Estados Unidos e na Europa, e daí para os países em desenvolvimento, ficou conhecida internacionalmente como:

- A.  Revolução Transgênica
- B.  Revolução Verde
- C.  Agricultura Biodinâmica
- D.  Permacultura